

## Единый государственный экзамен по ГЕОГРАФИИ

### Пояснения к демонстрационному варианту

При ознакомлении с Демонстрационным вариантом 2009 года следует иметь в виду, что задания, включённые в демонстрационный вариант, не отражают всех вопросов содержания, которые будут проверяться с помощью вариантов КИМ в 2009 году. Полный перечень вопросов, которые могут контролироваться на едином государственном экзамене 2009 года, приведен в кодификаторе, помещённом на сайте [www.fipi.ru](http://www.fipi.ru).

Назначение демонстрационного варианта заключается в том, чтобы дать возможность любому участнику ЕГЭ и широкой общественности составить представление о структуре будущих КИМ, количестве заданий, их форме, уровне сложности: базовом, повышенном и высоком. Приведённые критерии оценки выполнения заданий с развёрнутым ответом (тип «С»), включённые в этот вариант, позволят составить представление о требованиях к полноте и правильности записи развёрнутого ответа.

Эти сведения позволят выпускникам выработать стратегию подготовки и сдачи ЕГЭ в соответствии с целями, которые они ставят перед собой.

## **Единый государственный экзамен по ГЕОГРАФИИ**

### **Демонстрационный вариант 2009 г.**

### **Инструкция по выполнению работы**

На выполнение экзаменационной работы по географии отводится 3 часа (180 минут). Работа состоит из 50 заданий, которые разделены на три части.

Часть 1 содержит 31 задание (А1–А31) с выбором ответа. К каждому заданию дается 4 варианта ответа, только один из которых верный.

Часть 2 содержит 12 заданий (В1–В12), на которые надо дать краткий ответ в виде числа, одного слова или последовательности букв. В этой части используются задания на установление соответствия или последовательности, на выбор нескольких правильных ответов из предложенных, а также задания, в которых требуется самостоятельно записать правильный ответ.

Часть 3 включает 7 заданий с развёрнутым ответом. Ответом на задание С2 должен быть сделанный вами рисунок. В заданиях С1, С3–С7 требуется записать полный ответ на поставленный вопрос.

Внимательно прочитайте каждое задание и предлагаемые варианты ответа, если они имеются. Отвечайте только после того, как вы поняли вопрос и проанализировали все варианты ответа.

Выполняйте задания в том порядке, в котором они даны. Если какое-то задание вызывает у вас затруднение, пропустите его и постарайтесь выполнить те, в ответах на которые вы уверены. К пропущенным заданиям вы можете вернуться, если у вас останется время.

За выполнение различных по сложности заданий даётся от одного до нескольких баллов. Баллы, полученные вами за выполненные задания, суммируются. Постарайтесь выполнить как можно больше заданий и набрать наибольшее количество баллов.

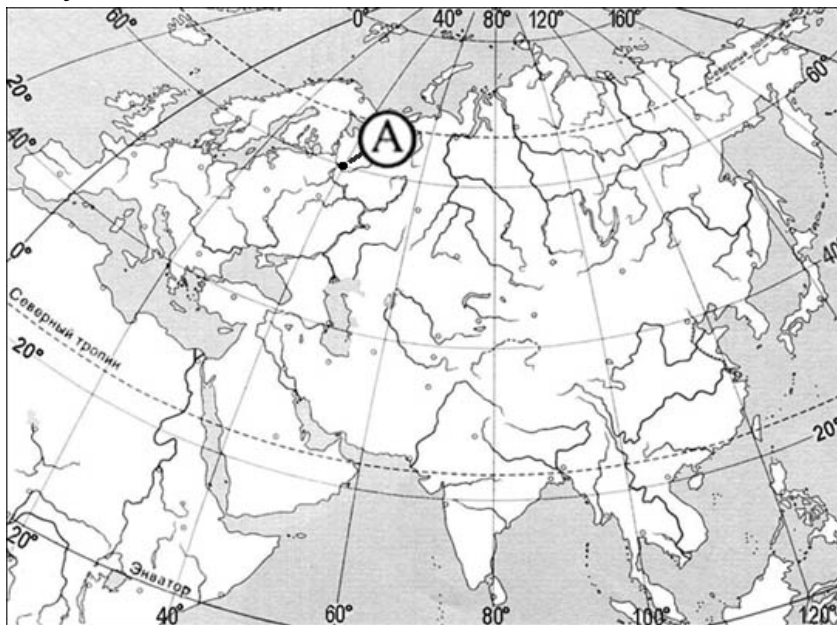
**Желаем успеха!**

**Часть 1**

*При выполнении заданий этой части в бланке ответов № 1 под номером выполняемого вами задания (A1–A31) поставьте знак «х» в клеточке, номер которой соответствует номеру выбранного вами ответа.*

**A1**

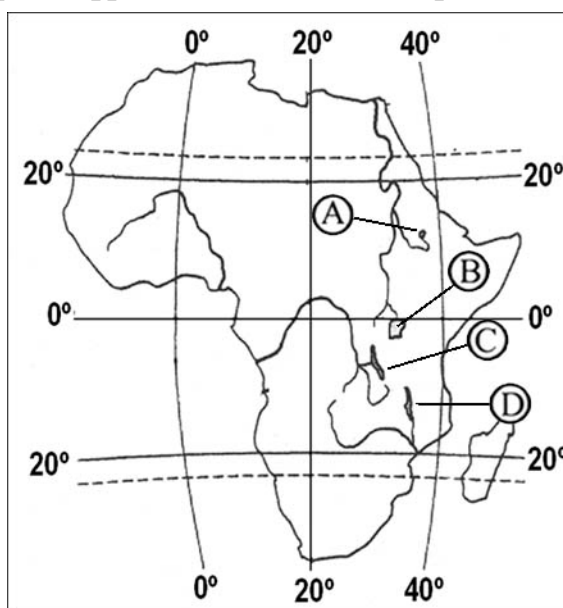
Какие географические координаты имеет точка, обозначенная на карте Евразии буквой А?



- 1) 60° с.ш. 40° з.д.
- 2) 40° с.ш. 60° в.д.
- 3) 40° с.ш. 60° з.д.
- 4) 60° с.ш. 40° в.д.

**A2**

Какой буквой на карте Африки обозначено озеро Виктория?



- 1) A
- 2) B
- 3) C
- 4) D

**A3** На какой из перечисленных территорий наиболее вероятны сильные землетрясения?

- 1) Японские острова
- 2) остров Шри-Ланка
- 3) остров Мадагаскар
- 4) Канадский Арктический архипелаг

**A4** Какие из перечисленных природных ресурсов относятся к исчерпаемым возобновимым?

- 1) энергия приливов
- 2) солнечная энергия
- 3) биологические
- 4) руды металлов

**A5** На какую из стран приходится наибольший объем выбросов углекислого газа (CO<sub>2</sub>) в атмосферу?

- 1) Индия
- 2) Саудовская Аравия
- 3) США
- 4) Россия

**A6** Какие почвы характерны для таежных лесов?

- 1) подзолистые
- 2) дерново-подзолистые
- 3) бурые лесные
- 4) серые лесные

**A7** В каком море расположен остров Сицилия?

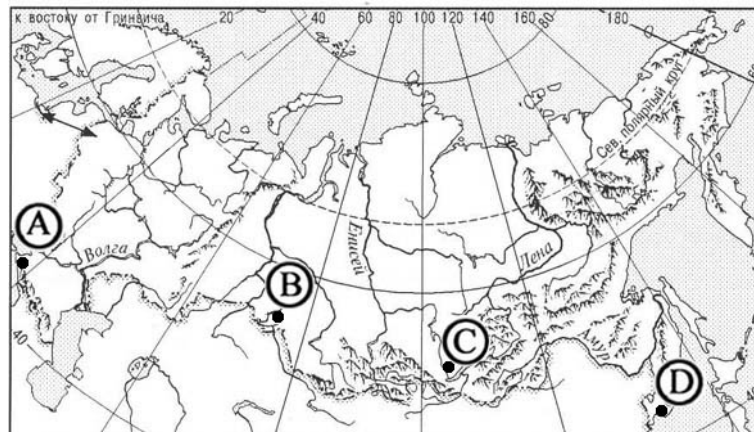
- 1) Карибском
- 2) Аравийском
- 3) Черном
- 4) Средиземном

**A8** Какая из перечисленных горных систем Евразии самая высокая?

- 1) Альпы
- 2) Тибет
- 3) Алтай
- 4) Кавказ

**A9**

В каком из городов, обозначенных буквами на карте России, зима наиболее теплая?



- 1) A                      2) B                      3) C                      4) D

**A10**

По какой параллели кругосветное путешествие будет короче?

- 1) 70° с.ш.              2) 60° ю.ш.              3) 50° ю.ш.              4) 30° с.ш.

**A11**

Для какой из перечисленных стран характерен миграционный прирост населения?

- 1) Франция  
2) Мексика  
3) Китай  
4) Индия

**A12**

Какой из перечисленных городов является наиболее крупным по численности населения?

- 1) Мадрид  
2) Киев  
3) Варшава  
4) Рио-де-Жанейро

**A13**

В какой из перечисленных стран наиболее велика доля горожан в общей численности населения?

- 1) Индонезия  
2) Бельгия  
3) Монголия  
4) Турция

**A14** В какой из перечисленных стран доля неграмотных в населении среди лиц старше 15 лет наибольшая?

- 1) Аргентина
- 2) Китай
- 3) Эфиопия
- 4) Мексика

**A15** Для какой из перечисленных стран характерна структура ВВП, показанная на диаграмме?

**Доля отдельных секторов экономики в ВВП**



- 1) Эфиопия
- 2) Афганистан
- 3) Италия
- 4) Нигерия

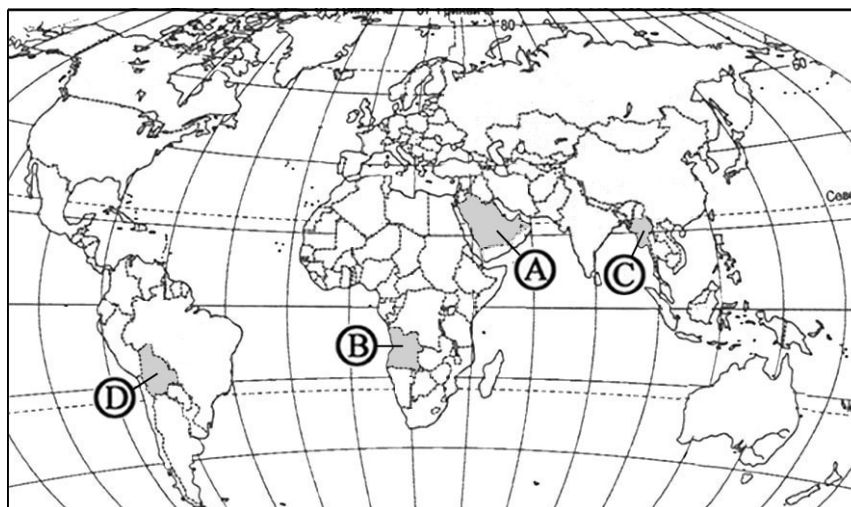
**A16** Какая из перечисленных стран специализируется на добыче нефти?

- 1) Нигерия
- 2) Республика Корея
- 3) Эфиопия
- 4) Австралия

**A17** Какая из перечисленных стран является крупным производителем и экспортером пшеницы?

- 1) Канада
- 2) Нидерланды
- 3) Индонезия
- 4) Турция

**A18** Какой буквой на политической карте мира обозначено государство Ангола?



- 1) A                      2) B                      3) C                      4) D

**A19** Какое из перечисленных государств по форме правления является республикой?

- 1) Швеция              2) Франция              3) Таиланд              4) Испания

**A20** Что характерно для населения Индии?

- 1) бóльшая часть населения проживает в городах  
2) религия большинства верующего населения – ислам  
3) высокий естественный прирост населения  
4) средняя ожидаемая продолжительность жизни не превышает 35 лет

**A21** С какой из перечисленных стран Россия имеет сухопутную границу?

- 1) Туркмения              2) Швеция              3) Монголия              4) Иран

**A22**

Какой из регионов, обозначенных буквами на карте России, имеет наибольшую среднюю плотность населения?



1) А

2) В

3) С

4) D

**A23**

Какой из перечисленных городов расположен на берегу Волги?

1) Пермь

2) Уфа

3) Самара

4) Рязань

**A24**

В каком из перечисленных регионов России ведется добыча железной руды?

1) Брянская область

2) Республика Калмыкия

3) Курская область

4) Чувашская республика

**A25**

Для какой из перечисленных республик в составе РФ наиболее характерно пастбищное овцеводство?

1) Карелия

2) Удмуртская

3) Калмыкия

4) Коми

**A26**

Какая из перечисленных отраслей промышленности получила наибольшее развитие в Поволжье?

1) лесная промышленность

2) черная металлургия

3) машиностроение

4) угольная промышленность



**A27** По добыче какого из перечисленных полезных ископаемых выделяется Западная Сибирь?

- 1) калийные соли
- 2) медные руды
- 3) природный газ
- 4) бокситы

**A28** В каком из высказываний содержится информация о проявлении международной экономической интеграции?

- 1) К началу XXI в. в более чем 80 странах мира доля сферы услуг в ВВП превышала 50%.
- 2) По запасам природного газа в мире особо выделяются два региона – Зарубежная Азия и СНГ.
- 3) В странах Северной Америки и Западной Европы темпы экономического роста в конце XX в. были ниже среднемировых.
- 4) Страны ЕС сформировали единое экономическое пространство со свободным перемещением товаров, услуг, капитала, технологий и рабочей силы.

**A29** В какой из перечисленных стран буддизм – религия большинства верующего населения?

- 1) Монголия
- 2) Афганистан
- 3) Алжир
- 4) Нигерия

**A30** Какая из перечисленных стран является членом АСЕАН?

- 1) Пакистан
- 2) Алжир
- 3) Бангладеш
- 4) Филиппины

**A31** Кто из перечисленных русских исследователей внес большой вклад в изучение Африки?

- 1) В. Юнкер
- 2) В. Поярков
- 3) Н. Пржевальский
- 4) С. Крашенинников

**Часть 2**

*Ответом к заданиям этой части (В1–В12) является последовательность букв, число или слово. Впишите ответы сначала в текст работы, а затем перенесите их в бланк ответов № 1 справа от номера соответствующего задания, начиная с первой клеточки, без пробелов и других символов. Каждую цифру или букву пишите в отдельной клеточке в соответствии с приведенными образцами.*

**В1**

Определите, когда по московскому времени должен совершить посадку в Москве (II часовой пояс) самолет, вылетевший из Читы (VIII часовой пояс) в 7 часов по местному времени, если расчетное время полета составляет 8 часов. Ответ запишите цифрами.

Ответ: \_\_\_\_\_ ч.

**В2**

Установите соответствие между субъектом Российской Федерации и цифрой, которой он обозначен на фрагменте политико-административной карты.



СУБЪЕКТ РФ

РАСПОЛОЖЕНИЕ НА КАРТЕ

- А) Псковская область  
Б) Мурманская область  
В) Оренбургская область

- 1) 1  
2) 2  
3) 3  
4) 4

Запишите в таблицу цифры, соответствующие выбранным ответам.

А	Б	В

**В3**

Установите соответствие между республикой в составе России и ее столицей.

**РЕСПУБЛИКА**

- А) Татарстан
- Б) Карелия
- В) Дагестан

**СТОЛИЦА**

- 1) Элиста
- 2) Махачкала
- 3) Петрозаводск
- 4) Казань

Запишите в таблицу цифры, соответствующие выбранным ответам.

А	Б	В

**В4**

Какие три из перечисленных городов являются центрами целлюлозно-бумажной промышленности? Обведите соответствующие цифры и запишите их в таблицу.

- 1) Кемерово
- 2) Сыктывкар
- 3) Невинномысск
- 4) Архангельск
- 5) Братск
- 6) Волгоград

--	--	--

**В5**

Установите соответствие между страной и ее столицей.

**СТРАНА**

- А) Швеция
- Б) Норвегия
- В) Бельгия

**СТОЛИЦА**

- 1) Копенгаген
- 2) Осло
- 3) Стокгольм
- 4) Брюссель

Запишите в таблицу цифры, соответствующие выбранным ответам.

А	Б	В

**В6**

В каких трех из перечисленных стран черная металлургия развивается с использованием собственного сырья? Обведите соответствующие цифры и запишите их в таблицу.

- 1) Япония
- 2) Бразилия
- 3) Бельгия
- 4) Индия
- 5) Украина
- 6) Республика Корея

--	--	--

**В7**

Расположите страны в порядке возрастания в них естественного прироста населения (на 1 тыс. жителей).

- А) Судан
- Б) Россия
- В) США
- Г) Бразилия

Запишите в таблицу получившуюся последовательность букв.

--	--	--	--

**В8**

Используя таблицу, сравните ресурсообеспеченность стран нефтью. Расположите страны в порядке увеличения показателя ресурсообеспеченности.

	Страна	Разведанные запасы нефти, млрд т	Добыча нефти, млн т в год
А)	Россия	11	480
Б)	Венесуэла	11	145
В)	Норвегия	1,1	128

Запишите в таблицу получившуюся последовательность букв.

--	--	--

**B9**

Определите страну по ее краткому описанию.

Эта европейская страна расположена на полуострове. Большинство населения исповедует православие и разговаривает на одном из языков индоевропейской семьи. Продолжительное жаркое лето способствует развитию субтропического земледелия. Страна занимает одно из первых мест в мире по тоннажу морского торгового флота.

Ответ: \_\_\_\_\_ .

**B10**

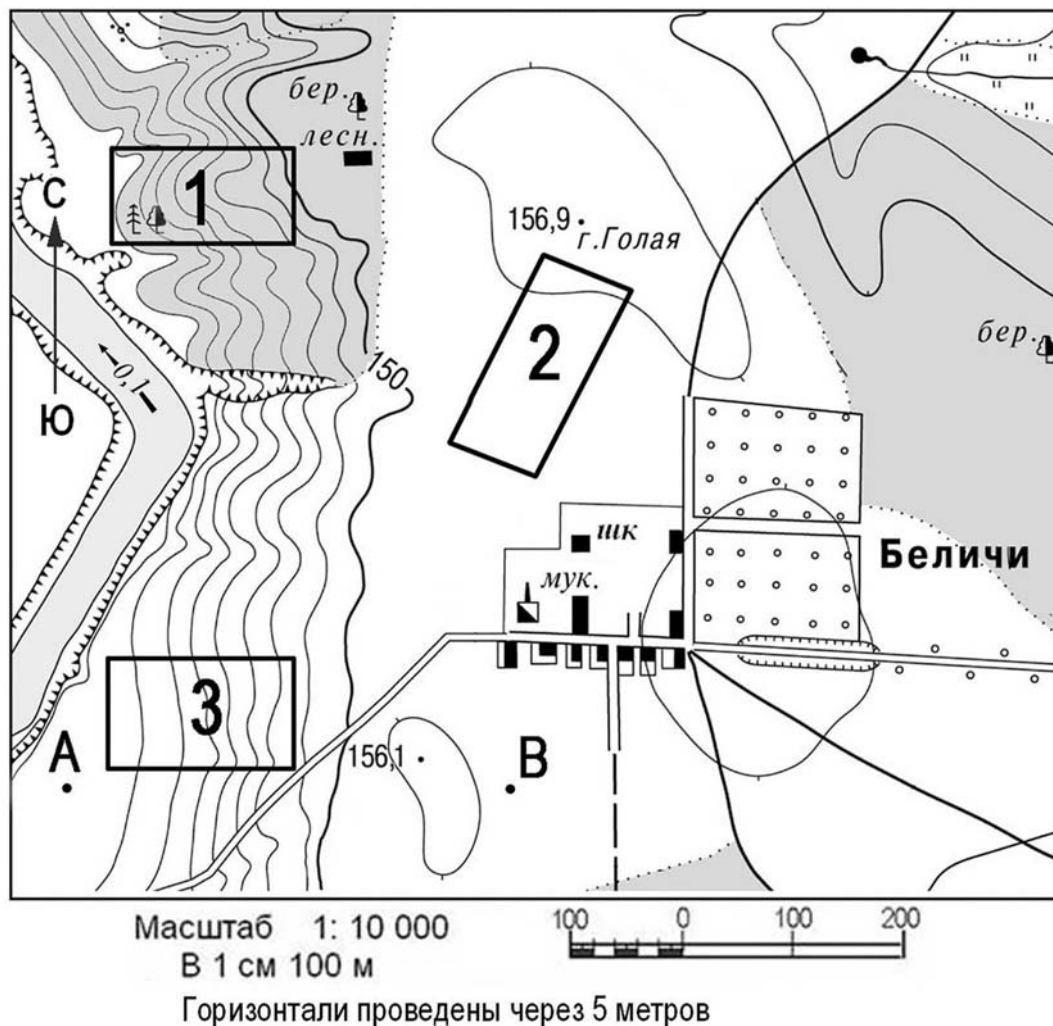
Определите регион России по его краткому описанию.

Особенностью географического положения этого края является отсутствие выхода к морю. Часть его территории занимают невысокие горы, но большая часть имеет равнинный рельеф. В крае открыты месторождения самых разнообразных полезных ископаемых, в том числе одно из крупнейших в мире месторождений калийных солей. Ведущими отраслями промышленности являются химическая и нефтехимическая, машиностроение и отрасли лесопромышленного комплекса.

Ответ: \_\_\_\_\_ край.

**Задания B11, B12, C1 и C2 выполняются с использованием приведенной ниже карты.**

Ознакомьтесь с картой, показанной на рисунке.



- B11** Определите по карте расстояние на местности по прямой от школы до избушки лесника. Полученный результат округлите до десятков метров. Ответ запишите цифрами.

Ответ: \_\_\_\_\_ м.

- B12** Определите по карте азимут, по которому надо идти от школы до избушки лесника. Ответ запишите цифрами.

Ответ: \_\_\_\_\_ градусов.

**Не забудьте перенести все ответы в бланк ответов № 1.**

**Часть 3**

*Для ответов на задания этой части (С1–С7) используйте бланк ответов № 2. Запишите сначала номер задания (С1 и т.д.), а затем не только ответ на поставленный вопрос, но и весь ход ваших рассуждений. Ответы записывайте разборчиво.*

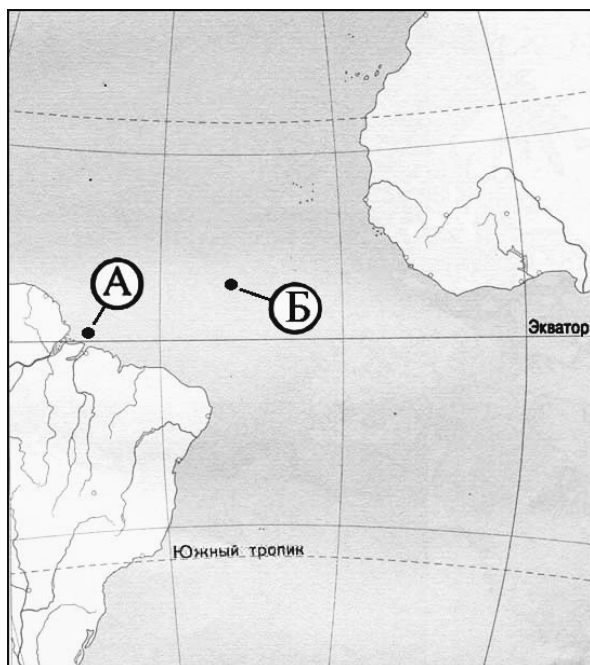
**С1** Оцените, какой из участков, обозначенных на карте цифрами 1, 2 и 3, наиболее подходит для тренировок членов школьной горнолыжной секции. Для обоснования своего ответа приведите два довода.

**С2** Постройте профиль рельефа местности по линии А–В. Для этого перенесите основу для построения профиля на бланк ответов № 2, используя горизонтальный масштаб – в 1 см 50 м и вертикальный масштаб – в 1 см 10 м. Укажите на профиле знаком «X» положение шоссе.



**С3**

Считается, что средняя соленость поверхностных вод Атлантического океана наибольшая, по сравнению с другими океанами. Однако в экваториальных широтах в точке А она существенно ниже, чем в точке Б. Объясните, с чем это связано, назовите одну причину.

**С4**

Какие особенности ЭГП и природно-ресурсного потенциала Норвегии способствовали развитию в этой стране металлургии алюминия, ориентированной на экспорт? Укажите одну особенность ЭГП и одну особенность природно-ресурсного потенциала.

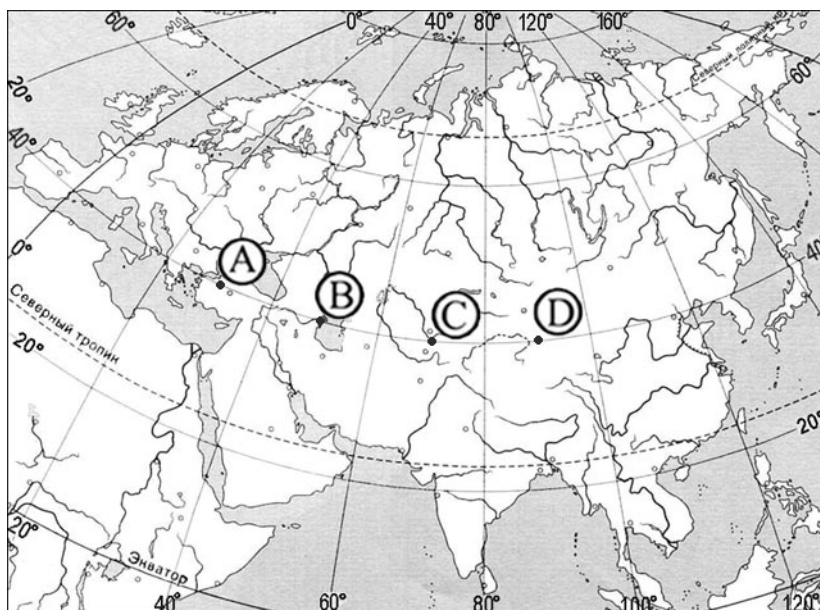
**С5**

Объясните, почему опасность образования смога в крупных городах резко возрастает при антициклональных погодных условиях. Укажите две причины.



**С6**

Определите, в каком из пунктов, обозначенных буквами на карте Евразии, 1 августа Солнце будет находиться ниже всего над горизонтом в 9 часов по солнечному времени Гринвичского меридиана. Запишите обоснование своего ответа.

**С7**

Используя приведенные в таблице данные, определите, в какой из стран – А, Б или В – доля лиц пожилого возраста в возрастной структуре населения наибольшая. Для обоснования своего ответа приведите необходимые числовые данные или рассуждения. Укажите две причины более высокой доли пожилых людей в населении этой страны.

### Демографические показатели стран А, Б, В

Показатели	Страна А	Страна Б	Страна В
Общая численность населения, млн чел.	74,0	10,5	36,0
Численность населения в возрасте до 15 лет, млн чел.	36,6	1,7	18,0
Численность населения в возрасте старше 65 лет, млн чел.	3,7	2,0	1,8
Рождаемость, ‰	26	11	20
Смертность, ‰	6	10	7
Ожидаемая продолжительность жизни, лет	69	77	70
Доля городского населения, %	45	53	65
Средняя плотность населения, чел./км <sup>2</sup>	74	115	100

**Инструкция по проверке и оценке работ учащихся по географии****Часть 1**

<b>№ задания</b>	<b>Ответ</b>	<b>№ задания</b>	<b>Ответ</b>
A1	4	A17	1
A2	2	A18	2
A3	1	A19	2
A4	3	A20	3
A5	3	A21	3
A6	1	A22	3
A7	4	A23	3
A8	2	A24	3
A9	1	A25	3
A10	1	A26	3
A11	1	A27	3
A12	4	A28	4
A13	2	A29	1
A14	3	A30	4
A15	3	A31	1
A16	1		

**Часть 2**

<b>№ задания</b>	<b>Ответ</b>
B1	9
B2	314
B3	432
B4	245
B5	324
B6	245
B7	БВГА
B8	ВАБ
B9	Греция
B10	Пермский
B11	390
B12	330

**Часть 3****КРИТЕРИИ ПРОВЕРКИ И ОЦЕНКИ ВЫПОЛНЕНИЯ  
ЗАДАНИЙ С РАЗВЁРНУТЫМ ОТВЕТОМ**

**Внимание!** При выставлении баллов за выполнение задания в «Протокол проверки ответов на задания бланка № 2» следует иметь в виду, что, **если ответ отсутствует** (нет никаких записей, свидетельствующих о том, что экзаменуемый приступал к выполнению задания), то в протокол проставляется «X», а не «0». При использовании технологии «КРОК» в подобной ситуации используется знак «—», а не «X».

- C1** Оцените, какой из участков, обозначенных на карте цифрами 1, 2 и 3, наиболее подходит для тренировок членов школьной горнолыжной секции. Для обоснования своего ответа приведите два довода.

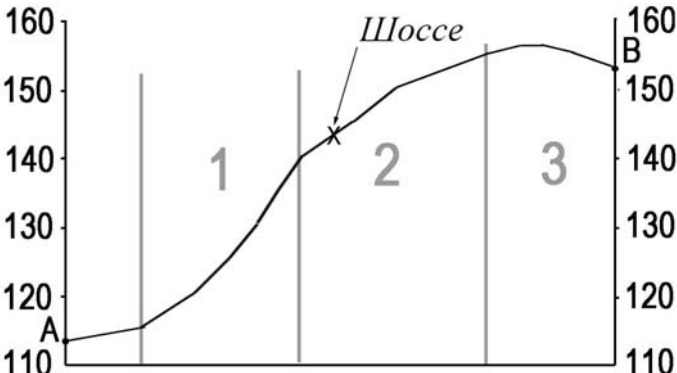
Ответ:

<b>Элементы содержания верного ответа</b> (допускаются иные формулировки ответа, не искажающие его смысла)	<b>Баллы</b>
1) Указан участок 3 В обосновании говорится, что 2) склон в пределах участка 3 имеет достаточную крутизну <div style="text-align: right;"><b>ИЛИ</b></div> в пределах участка 2 склон очень пологий 3) склон в пределах участка 3 не имеет препятствий <div style="text-align: right;"><b>ИЛИ</b></div> участок 1 находится в лесу	
<b>Указания к оцениванию</b>	
Ответ включает все три названных выше элемента	2
Ответ включает два (1-й и 2-й или 1-й и 3-й) из названных выше элементов	1
Ответ включает один (любой) из названных выше элементов <div style="text-align: right;"><b>ИЛИ</b></div> все вышеперечисленные элементы отсутствуют	0
<i>Максимальный балл</i>	<i>2</i>

- С2** Постройте профиль рельефа местности по линии А–В. Для этого перенесите основу для построения профиля на бланк ответов № 2, используя горизонтальный масштаб – в 1 см 50 м и вертикальный масштаб – в 1 см 10 м. Укажите на профиле знаком «X» положение шоссе.



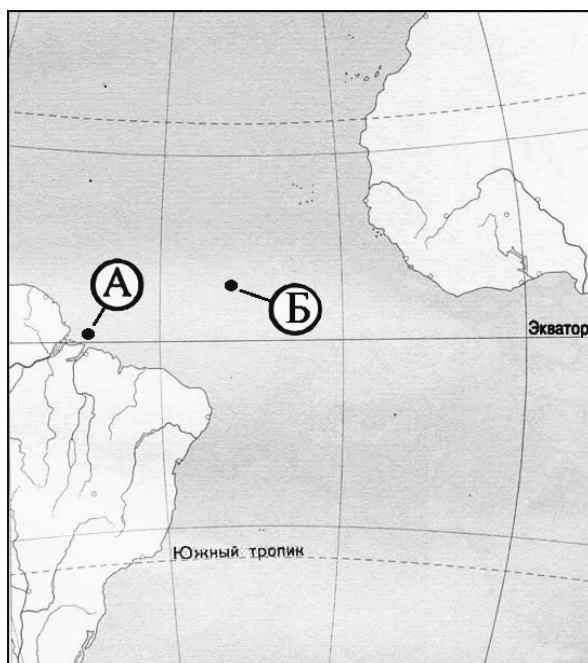
Ответ:

Элементы содержания верного ответа	Баллы
 <p>1) На рисунке в ответе длина горизонтальной линии основы профиля равна <math>80 \pm 2</math> мм и расстояние от левой вертикальной оси до шоссе – <math>38 \pm 2</math> мм</p> <p>2) форма профиля в основном совпадает с эталоном</p> <p>3) на участке 1 склон круче, чем на участке 2</p>	
Указания к оцениванию	
Ответ включает все три названных выше элемента	2
Ответ включает один (1-й) <div style="text-align: right;"><b>ИЛИ</b></div> два (любых) из названных выше элементов	1
Ответ включает один (2-й или 3-й) из названных выше элементов <div style="text-align: right;"><b>ИЛИ</b></div> все вышеперечисленные элементы отсутствуют	0

Максимальный балл	2
-------------------	---

С3

Считается, что средняя соленость поверхностных вод Атлантического океана наибольшая, по сравнению с другими океанами. Однако в экваториальных широтах в точке А она существенно ниже, чем в точке Б. Объясните, с чем это связано, назовите одну причину.

**Ответ:**

Элементы содержания верного ответа (допускаются иные формулировки ответа, не искажающие его смысла)	Баллы
В ответе различия в солёности вод объясняются опресняющим влиянием рек	ИЛИ
близостью точки А к устью Амазонки	
<b>Указания к оцениванию</b>	
Ответ включает названный выше элемент	1
Названный выше элемент отсутствует	0
Максимальный балл	1

**С4**

Какие особенности ЭГП и природно-ресурсного потенциала Норвегии способствовали развитию в этой стране металлургии алюминия, ориентированной на экспорт? Укажите одну особенность ЭГП и одну особенность природно-ресурсного потенциала.

Ответ:

<b>Элементы содержания верного ответа</b> (допускаются иные формулировки ответа, не искажающие его смысла)	<b>Баллы</b>
В ответе указаны следующие особенности: 1) приморское положение / возможность доставки импортного сырья морским транспортом <b>ИЛИ</b> возможность экспорта готовой продукции морским транспортом; 2) большой гидроэнергопотенциал рек / возможность получения дешевой электроэнергии на ГЭС	
<b>Указания к оцениванию</b>	
Ответ включает полностью оба названных выше элемента (элемент считается полностью присутствующим, если ответ включает обе части данного элемента, разделенные «/», или только вторую его часть)	2
Ответ включает один (любой) элемент полностью <b>ИЛИ</b> оба элемента частично	1
Ответ включает один (любой) элемент частично <b>ИЛИ</b> все вышеперечисленные элементы отсутствуют	0
<i>Максимальный балл</i>	2

**C5**

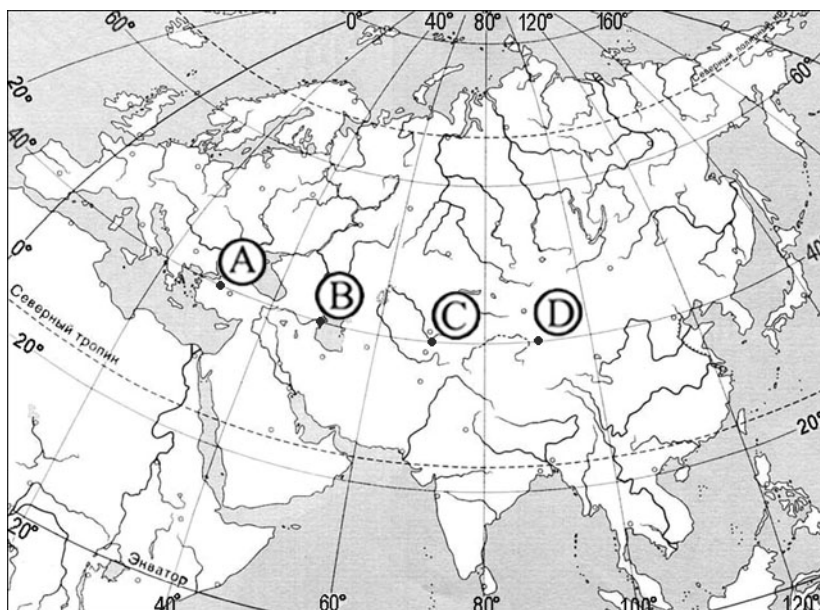
Объясните, почему опасность образования смога в крупных городах резко возрастает при антициклональных погодных условиях. Укажите две причины.

**Ответ:**

<b>Элементы содержания верного ответа</b> (допускаются иные формулировки ответа, не искажающие его смысла)	<b>Баллы</b>
В ответе указаны следующие причины: 1) слабые ветры или их отсутствие 2) нисходящее движение воздуха в антициклонах <div style="text-align: right;"><b>ИЛИ</b></div> температурная инверсия 3) относительно малое количество осадков, очищающих атмосферу	
<b>Указания к оцениванию</b>	
Ответ включает все три или два (любых) из названных выше элементов	2
Ответ включает один (любой) из названных выше элементов	1
Все вышеперечисленные элементы отсутствуют	0
<i>Максимальный балл</i>	2

**С6**

Определите, в каком из пунктов, обозначенных буквами на карте Евразии, 1 августа Солнце будет находиться ниже всего над горизонтом в 9 часов по солнечному времени Гринвичского меридиана. Запишите обоснование своего ответа.

**Ответ:**

Элементы содержания верного ответа (допускаются иные формулировки ответа, не искажающие его смысла)	Баллы
<p>1) Ниже всего Солнце будет находиться над горизонтом в пункте D В обосновании говорится, что</p> <p>2) в этот момент на меридиане 45° в.д. – полдень</p> <p style="text-align: right;"><b>ИЛИ</b></p> <p>для определения полуденного меридиана используется вычисление <math>(12 - 9) \times 15^\circ</math></p> <p style="text-align: right;"><b>ИЛИ</b></p> <p>в ответе правильно вычисляется солнечное время для каждого из указанных в условии пунктов</p> <p>3) пункт расположен дальше всего от полуденного меридиана</p> <p style="text-align: right;"><b>ИЛИ</b></p> <p>искомый пункт определяется путем сравнения времени суток в указанных в условии пунктах</p>	
Указания к оцениванию	
Ответ включает все три названных выше элемента	2
Ответ включает два (любых) из названных выше элементов	1
<p>Ответ включает один (любой) из названных выше элементов</p> <p style="text-align: right;"><b>ИЛИ</b></p> <p>все вышеперечисленные элементы отсутствуют</p>	0
<i>Максимальный балл</i>	2



- С7** Используя приведенные в таблице данные, определите, в какой из стран – А, Б или В – доля лиц пожилого возраста в возрастной структуре населения наибольшая. Для обоснования своего ответа приведите необходимые числовые данные или рассуждения. Укажите две причины более высокой доли пожилых людей в населении этой страны.

**Демографические показатели стран А, Б, В**

Показатели	Страна А	Страна Б	Страна В
Общая численность населения, млн чел.	74,0	10,5	36,0
Численность населения в возрасте до 15 лет, млн чел.	36,6	1,7	18,0
Численность населения в возрасте старше 65 лет, млн чел.	3,7	2,0	1,8
Рождаемость, ‰	26	11	20
Смертность, ‰	6	10	7
Ожидаемая продолжительность жизни, лет	69	77	70
Доля городского населения, %	45	53	65
Средняя плотность населения, чел./км <sup>2</sup>	74	115	100

**Ответ:**

Элементы содержания верного ответа (допускаются иные формулировки ответа, не искажающие его смысла)	Баллы
1) В ответе говорится, что доля лиц пожилого возраста наибольшая в стране Б 2) В обосновании приведены следующие данные: в стране А пожилых людей – 19% <div align="right"><b>ИЛИ</b></div> приведены вычисления: $2,0 : 10,5$ 3) В объяснении указывается, что высокая доля лиц пожилого возраста связана с низкой рождаемостью в стране Б <div align="right"><b>ИЛИ</b></div> с низкой долей детей и подростков 4) В объяснении указывается, что высокая доля лиц пожилого возраста связана с высокой средней продолжительностью жизни в стране Б	
<b>Указания к оцениванию</b>	
Ответ включает все четыре названных выше элемента	3
Ответ включает три (1-й и два любых других) из названных выше элементов	2
Ответ включает два (1-й и один любой другой) из названных выше элементов	1
Ответ включает один (любой) из названных выше элементов <div align="right"><b>ИЛИ</b></div> все вышеперечисленные элементы отсутствуют	0
<i>Максимальный балл</i>	<i>3</i>